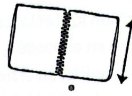
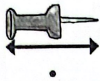


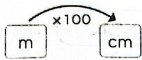
- 11 ¿Qué unidad utilizarías para medir estas longitudes? Une con flechas.



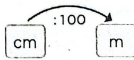
Centímetros

Metros

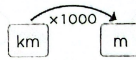
- 12 Completa las siguientes igualdades.



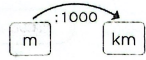
$$3 \text{ m} = \dots\dots\dots \text{ cm}$$



$$600 \text{ cm} = \dots\dots\dots \text{ m}$$



$$5 \text{ km} = \dots\dots\dots \text{ m}$$



$$5000 \text{ m} = \dots\dots\dots \text{ km}$$

$$80 \text{ m} = \dots\dots\dots \text{ cm}$$

$$6900 \text{ cm} = \dots\dots\dots \text{ m}$$

$$2 \text{ km} = \dots\dots\dots \text{ m}$$

$$6000 \text{ m} = \dots\dots\dots \text{ km}$$

$$100 \text{ m} = \dots\dots\dots \text{ cm}$$

$$200 \text{ cm} = \dots\dots\dots \text{ m}$$

$$8 \text{ km} = \dots\dots\dots \text{ m}$$

$$2000 \text{ m} = \dots\dots\dots \text{ km}$$

- 13 Expresa las siguientes longitudes en centímetros siguiendo el ejemplo.

$$1 \text{ m } 25 \text{ cm} = 100 \text{ cm} + 25 \text{ cm} = 125 \text{ cm}$$

$$56 \text{ m } 78 \text{ cm} = \dots\dots\dots \text{ cm} + \dots\dots\dots \text{ cm} = \dots\dots\dots \text{ cm}$$

$$30 \text{ m } 98 \text{ cm} = \dots\dots\dots \text{ cm} + \dots\dots\dots \text{ cm} = \dots\dots\dots \text{ cm}$$

$$15 \text{ m } 43 \text{ cm} = \dots\dots\dots \text{ cm} + \dots\dots\dots \text{ cm} = \dots\dots\dots \text{ cm}$$

$$39 \text{ m } 08 \text{ cm} = \dots\dots\dots \text{ cm} + \dots\dots\dots \text{ cm} = \dots\dots\dots \text{ cm}$$

- 14 Ayer Carlos utilizó 16 m de cuerda, y hoy, 20 m. ¿Cuántos metros de cuerda ha utilizado hoy más que ayer?

|      |   |
|------|---|
| 16 m | ? |
|------|---|

Operación:

|      |
|------|
| 20 m |
|------|

Solución:

Hoy ha utilizado ..... m de cuerda más que ayer.

## El tiempo verbal

Nombre \_\_\_\_\_ Fecha \_\_\_\_\_

## Recuerda

Las formas verbales sitúan las acciones en el **tiempo**. Algunas formas expresan acciones que ocurrieron en el **pasado**; otras, acciones que ocurren en el **presente**; y otras, acciones que ocurrirán en el **futuro**.

## 1 Clasifica estas formas verbales según el tiempo que expresan.

- |            |             |              |           |
|------------|-------------|--------------|-----------|
| • aman     | • bebo      | • compraste  | • cantaré |
| • viajarás | • atracaron | • correremos | • pinté   |
| • trabajé  | • vivirán   | • escribes   | • pasean  |

Presente

Pasado

Futuro

|       |       |       |
|-------|-------|-------|
| ▼     | ▼     | ▼     |
| _____ | _____ | _____ |
| _____ | _____ | _____ |
| _____ | _____ | _____ |

## 2 Escribe la misma oración cambiando el tiempo de la forma verbal.

Ponla primero en pasado y luego en futuro.

- Javier **estudia** toda la tarde.

\_\_\_\_\_

\_\_\_\_\_

- El mecánico **arregla** el coche.

\_\_\_\_\_

\_\_\_\_\_

- La abuela **compra** el pan.

\_\_\_\_\_

\_\_\_\_\_