

16. El kilómetro (II)

1 Ordena las siguientes distancias de mayor a menor.

1 km y 350 m

1 km y 3 500 m

3 km y 150 m

2 km y 1 350 m

..... > > >

2 Indica la unidad de longitud que se utilizaría para medir:


- a) La distancia entre dos ciudades.
- b) La longitud de un campo de baloncesto.
- c) La longitud de una piscina olímpica.
- d) La distancia recorrida por un avión.
- e) La longitud de un barco.
- f) La distancia recorrida en una maratón de atletismo.
- g) La longitud de una pista de atletismo.

3 Indica si las siguientes afirmaciones son verdaderas (V) o falsas (F).

- a) Un kilómetro son cien metros.
- b) El kilómetro es una unidad de longitud mayor que el metro.
- c) El metro y el kilómetro son unidades de capacidad.
- d) Para pasar de kilómetros a metros, hay que multiplicar por mil.






4 Completa.

- a) $2 \text{ km} = 1\,350 \text{ m} + \dots\dots\dots \text{ m}$
- b) $4 \text{ km} = 2\,250 \text{ m} + \dots\dots\dots \text{ m}$
- c) $3 \text{ km} = 2\,950 \text{ m} + \dots\dots\dots \text{ m}$
- d) $5 \text{ km} - \dots\dots\dots \text{ m} = 3\,750 \text{ m}$
- e) $1 \text{ km} + \dots\dots\dots \text{ m} = 4\,325 \text{ m}$
- f) $6 \text{ km} - 3 \text{ km} = \dots\dots\dots \text{ m}$



13. Medir con la regla (I)

1 Marca con **X** si los objetos de la tabla que se pueden medir con una regla o no.

	Sí se puede medir con regla	No se puede medir con regla
		
		
		
		
		

5. La g y la j. La diéresis

1 Escribe palabras de la lectura con las sílabas ga, go, gu, gue, gui.

.....

2 Completa las oraciones con estas palabras: guisantes, guindas, jarabe, jinete, segundo, judías, ajo, anginas, joven, perejil, Ángela, jengibre.

- Mi prima, aunque es aún muy es una gran

- Celia está enferma, tiene, y el médico le ha recetado un

- En el menú había de primer plato a elegir entre rehogadas con y y crema de ; de plato, pollo aromatizado con ; de postre, flan con

3 Completa las palabras con gue, gui o con güe, güi.

á_____la ce_____era _____tarra lin_____sta
 _____ñol desa_____to averi_____mos

4 Escribe todas las palabras de la imagen que contengan g y j.



.....
